

Witam wszystkich.

Dzisiejszy temat to : **Powtórzenie wiadomości i umiejętności z działu Gospodarka Europy**

Temat należy zapisać do zeszytu oraz rozwiązać poniższy test. Nic nie odsyłać, w przyszłym tygodniu test napiszecie na ocenę.

Gospodarka Europy

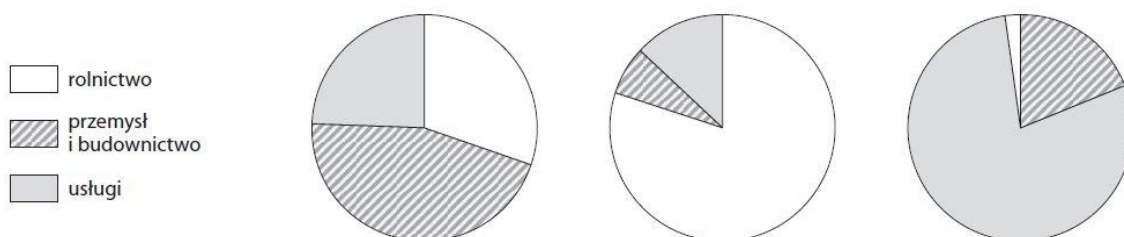
Test sprawdzający – rozdział 4

Grupa B

1. Podaj nazwę sektora gospodarki, którego dotyczy opis. **0–1 p.**

Ten dział gospodarki zajmuje się wydobyciem surowców mineralnych oraz ich przetwarzaniem, a także przetwórstwem surowców

2. Wykresy przedstawiają strukturę zatrudnienia w trzech państwach o różnym poziomie rozwoju gospodarczego. Zaznacz wykres przedstawiający strukturę zatrudnienia w kraju o najwyższym poziomie rozwoju gospodarczego. Uzasadnij swój wybór. **0–2 p**



Uzasadnienie:

3. Uzupełnij tabelę dotyczącą warunków rozwoju rolnictwa i jego cech w Danii i na Węgrzech. Wpisz znak X we właściwych komórkach. **0–3 p.**

Warunki rozwoju rolnictwa i jego cechy	Dania	Węgry
Klimat umiarkowany ciepły kontynentalny.		
Niezbyt urodzajne gleby brunatne i bielicowe.		
Łagodne zimy i niezbyt suche lata.		
Przewaga małych i średnich gospodarstw.		
Przewaga zbóż (pszenicy, jęczmienia, żyta).		
Niewielkie znaczenie hodowli zwierząt.		

4. Na podstawie poniższego tekstu wykonaj polecenia. **0–4 p.**

Jest jednym z najbogatszych państw świata. Jego gospodarka rozwija się dzięki dogodnemu położeniu i warunkom naturalnym, które sprzyjają uprawie zbóż i hodowli zwierząt (głównie bydła i trzody chlewnej). Nowoczesny przemysł przetwarza produkty dostarczane przez wydajne rolnictwo. Ten kraj jest światowym liderem w produkcji mleka, mięsa, masła oraz serów. Dzięki nadmorskiemu położeniu istotną rolę odgrywa również rybołówstwo. Ważnym działem gospodarki jest handel zagraniczny, ponieważ ok. 1/3 PKB pochodzi z eksportu m.in. produktów spożywczych i gazu ziemnego wydobywanego z dna morza. Dobrze rozwinięta jest również turystyka.

a) Podaj nazwę kraju, którego dotyczy powyższy opis.

b) Do podanych w tabeli sektorów gospodarki dopisz na podstawie tekstu po dwa rodzaje działalności.

Sektor gospodarki	Rodzaje działalności w opisywanym kraju
rolnictwo	
przemysł	
usługi	

5. Wymień cztery nieodnawialne źródła energii. **0–2 p.**

1. _____

3. _____

2. _____

4. _____

6. Dopasuj rodzaje elektrowni do podanych opisów, a następnie podaj przykłady państw, w których większość energii wytwarza się takich elektrowniach. **0–3 p.**

▪ elektrownia wodna ▪ elektrownia jądrowa ▪ elektrownia słoneczna ▪ elektrownia ciepła

A. Do produkcji energii w tych elektrowniach wykorzystuje się pierwiastki chemiczne, np. uran. Działalność tych zakładów nie jest akceptowana przez część ludności z obawy przed groźnymi awariami.

Rodzaj elektrowni: _____ Państwo: _____

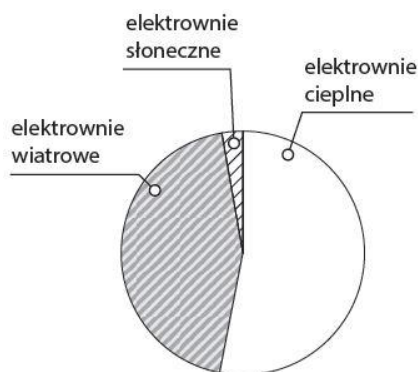
B. Surowcem wykorzystywanym do produkcji energii w takich elektrowniach jest na przykład węgiel kamienny.

Rodzaj elektrowni: _____ Państwo: _____

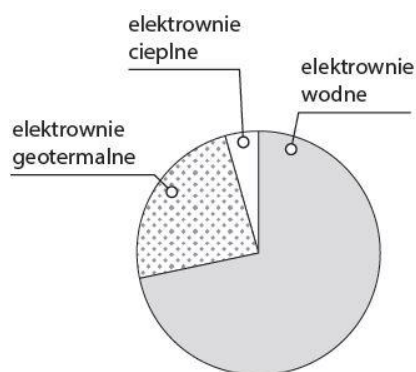
C. Takie elektrownie buduje się w górach, gdzie wykorzystuje się spadek terenu. Budowa elektrowni tego rodzaju na nizinach wiąże się z zalaniem dużego obszaru..

Rodzaj elektrowni: _____ Państwo: _____

7. Rozpoznaj, na którym z poniższych diagramów przedstawiono strukturę produkcji energii na Islandii, a na którym – w Danii. Podpisz diagramy nazwami tych państw. **0–2 p.**



Państwo: _____



Państwo: _____

8. Uzupełnij tabelę. Wpisz we właściwych kolumnach po dwa przykłady przyrodniczych i kulturowych walorów turystycznych oraz elementów infrastruktury turystycznej Europy Południowej.

0–3 p.

Walory przyrodnicze	Walory kulturowe	Infrastruktura turystyczna
1.	1.	1.
2.	2.	2.

9. Na podstawie mapy politycznej Europy podaj nazwy państw, których dotyczą poniższe opisy. Następnie wpisz nazwy państw we właściwych miejscach na mapie.

0–3 p.

Atrakcja	Akropol w Atenach	Wenecja	Lazurowe Wybrzeże	Carcassonne	Wezuwiusz i Pompeje
Numer na mapie					

